



Kellonaikoja isommille ala-astelaisille


Matematiikan, ajan ja kellon tehtäviä n. 4-6 -luokkalaisille



Piirrä kellon osoittimet osoittamaan tämän hetkistä aikaa.




Piirrä kellon osoittimet osoittamaan aikaa 5 yli 6.



Piirrä kellon osoittimet osoittamaan aikaa 12.50.



Paljonko tämä kello on?




Piirrä osoittimet osoittamaan päivän mukavinta kellonaikaa.


Uupumatta kulkee, eteenpäin käy.

Vaan ei paikaltaan liikkuvan näy. Mikä se on?

Vieressä näet televisiokanavan ohjelmatiedot.



Mikä ohjelma alkaa kun kello on näin paljon?



Milloin alkaa ketunpoikien jalkapallo-ottelu?

Piirrä osoittimet kelloon.

13.00 Pelle Paavalin satutunti
14.00 Ruohikon elämää
14.45 Kaislamaton salaisuus
15.30 Taikamatkalla Intiassa
16.00 Pienen koppakuoriaisen seikkailut
16.25 Sudenpennun leikkihetki
17.05 Taikurin uudet kujeet
17.45 Satumetsän pieni satupolku
18.00 Maailman ympäri polkupyörällä
18.45 Ketunpoikien jalkapallo-ottelu
Takametsän Toivot - Satumetsän Sankarit (mikäli ottelu menee jatkoajalle, jatkamme lähetystä huomenaamulla)

Milloin ohjelmat päättyvät?

Ruohikon elämää päättyy kello _____

Taikamatkalla Intiassa päättyy kello _____


Maailman ympäri polkupyörällä päättyy kello _____

Kuinka kauan ohjelmat kestävät?


Pelle Paavalin satutunti kestää _____ minuuttia

Kaislamaton salaisuus kestää _____ minuuttia


Pienen koppakuoriansen seikkailut kestävät _____ minuuttia



Piirrä kellon osoittimet osoittamaan kellonaikaa 18.05.



Piirrä tämän kellon osoittimet osoittamaan kellonaikaa, joka on kun yläpuolella oleva kello onkin 4 tuntia vanhempi.



Piirrä kellon osoittimet osoittamaan aikaa 21.43.

Kuinka monta sekuntia on 9 minuuttia?

Kuinka monta sekuntia on 45 minuuttia?

Kuinka monta minuuttia on 5 tuntia?

Kuinka monta minuuttia on 14 tuntia?

Kuinka monta tuntia mahtuu 368 minuuttiin?

Kuinka monta tuntia mahtuu 67 minuuttiin?

274 minuuttiin mahtuu 4 tuntia, mutta kuinka monta minuuttia sen lisäksi?

Kun meillä on kello seitsemän, herää monta lasta. Mutta samaan aikaan Kanadassa iltasatuja luetaan vasta.

Ota selvää:

Kuinka monta aikavyöhykettä on maailmassa?

Kun kello on Suomessa 14.00, mitä se on Paraguayssa?

Kun kello on Madagaskarilla 8.00, mitä se on Suomessa?